

KLOKKIJKEN

ANALOOG

OEFENBOEKJE

KLOKKIJKEN ANALOOG HOE LAAT IS HET?

Opdracht 1:

Hieronder is een klok getekend. Deze klok heeft 2 wijzers:

- de grote wijzer
- de kleine wijzer

Die **grote wijzer** en die **kleine wijzer** vertellen ons hoe laat het is. Dat doen ze door naar de getallen op de klok te wijzen.

KLEINE WIJZER



Opdracht 2:


Hele uren...

Als de **grote wijzer** naar de **12** wijst dan geeft de klok een **heel uur** aan.


De **kleine wijzer** wijst dan naar de **1, 2, 3, 4, 5, 6, 7, 8, 9, 10, 11 of 12**.

Het is dan 1 uur of 2 uur of 3 uur of 4 uur of 5 uur of 6 uur of 7 uur of 8 uur of 9 uur of 10 uur of 11 uur of 12 uur.

Een paar voorbeelden:



De **grote wijzer** wijst naar de **12**.
De **kleine wijzer** wijst naar de **5**.
Dan is het **5 uur**.



De **grote wijzer** wijst naar de **12**.
De **kleine wijzer** wijst naar de **2**.
Dan is het **2 uur**.

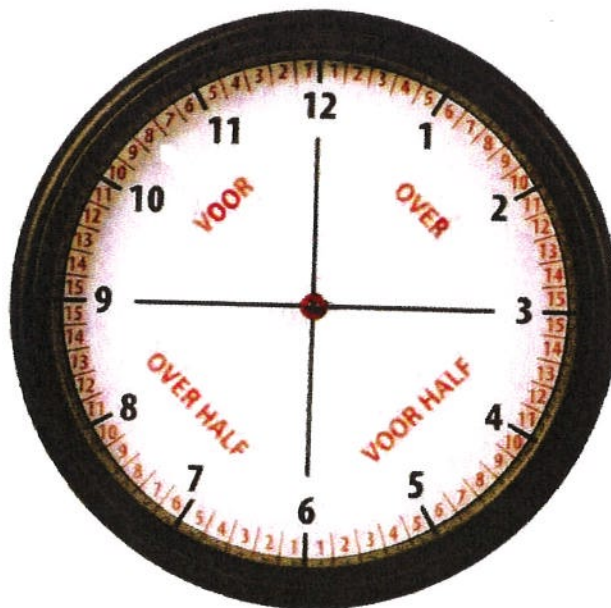
Opdracht 3:

Hieronder is weer een klok getekend. Kijk goed naar die klok! In die klok zijn woorden geschreven. Wat betekenen die woorden?

- Als de **grote wijzer tussen de 12 en tot en met de 3** wijst dan gebruik je "**over**" om te zeggen hoe laat het is. (bijv. 10 **over** 7)
- Als de **grote wijzer tussen de 3 en de 6** wijst dan gebruik je "**voor half**" om te zeggen hoe laat het is. (bijv. 7 **voor half** 11)
- Als de **grote wijzer tussen de 6 en de 9** wijst dan gebruik je "**over half**" om te zeggen hoe laat het is. (bijv. 5 **over half** 2)
- Als de **grote wijzer naar de 9 en voor de 12** wijst dan gebruik je "**voor**" om te zeggen hoe laat het is. (bijv. 3 **voor** 6)

Let op!

- Als de **grote wijzer** naar de **6** wijst gebruik je "**half**". (bijv. **half** 12)



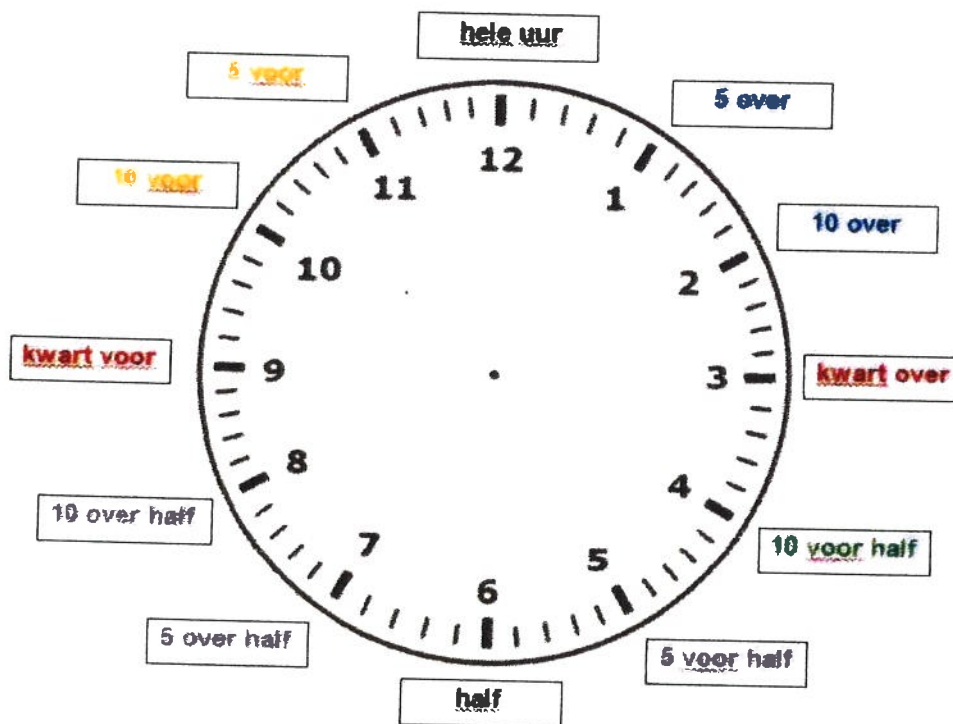
Opdracht 4:

Hieronder is een klok getekend met streepjes. Elk **streepje** geeft **één minuut** aan. In een uur zitten 60 minuten. Er zijn dus 60 streepjes getekend.

Buiten de klok staat al geschreven hoe laat het is als de grote wijzer er naar wijst.

- Als de **grote wijzer** naar de **1** wijst, is het **5 over**. (bijv. **5 over** 11)
- Als de **grote wijzer** naar de **2** wijst, is het **10 over**. (bijv. **10 over** 6)
- Als de **grote wijzer** naar de **3** wijst, is het **kwart over**. (bijv. **kwart over** 4)
- Als de **grote wijzer** naar de **4** wijst, is het **10 voor half**. (bijv. **10 voor half** 8)
- Als de **grote wijzer** naar de **5** wijst, is het **5 voor half**. (bijv. **5 voor half** 1)
- Als de **grote wijzer** naar de **6** wijst, is het **half**. (bijv. **half** 7)

- Als de **grote wijzer** naar de **7** wijst, is het **5 over half**. (bijv. **5 over half** 2)
- Als de **grote wijzer** naar de **8** wijst, is het **10 over half**. (bijv. **10 over half** 3)
- Als de **grote wijzer** naar de **9** wijst is het **kwart voor**. (bijv. **kwart voor** 5)
- Als de **grote wijzer** naar de **10** wijst is het **10 voor**. (bijv. **10 voor** 8)
- Als de **grote wijzer** naar de **11** wijst is het **5 voor**. (bijv. **5 voor** 9)
- Als de **grote wijzer** naar de **12** wijst is het een **heel uur**. (bijv. **7 uur**)



Let op!

- Bij **5 over** (11) mag je ook **5 minuten over** (11) zeggen.
- Bij **10 over** (6) mag je ook **10 minuten over** (6) zeggen.
- Bij **10 voor half** (8) mag je ook **10 minuten voor half** (8) zeggen.
- Bij **5 voor half** (1) mag je ook **5 minuten voor half** (1) zeggen.
- Bij **5 over half** (2) mag je ook **5 minuten over half** (2) zeggen.
- Bij **10 over half** (3) mag je ook **10 minuten over half** (3) zeggen.
- Bij **10 voor** (8) mag je ook **10 minuten voor** (8) zeggen.
- Bij **5 voor** (9) mag je ook **5 minuten voor** (9) zeggen.

Als de **grote wijzer over** de **3 (= over kwart over)** gaat, wordt de tijd met **één uur later** aangegeven.

Voorbeelden:

1 uur – 5 over 1 – 10 over 1 – kwart over 1 – 10 voor half 2 – 5 voor half 2 – half 2 – 5 over half 2 – 10 over half 2 – kwart voor 2 – 10 voor 2 – 5 voor 2 – 2 uur: als de **grote wijzer over “kwart over”** gaat, wordt de **1 een 2** (van uur)


8 uur – 5 over 8 – 10 over 8 – kwart over 8 – 10 voor half 9 – 5 voor half 9 – half 9 – 5 over half 9 – 10 over half 9 – kwart voor 9 – 10 voor 9 – 5 voor 9 – 9 uur: als de **grote wijzer over “kwart over”** gaat, wordt de **8 een 9** (van uur)

Kwart over en kwart voor...


Wat valt je op als je het **5 minuten later** is dan **“10 over”**? Dan is het geen **“15 (minuten) over”**, maar **“kwart over”**: dus **“10 over 6” (5 minuten later): geen “15 (minuten) over 6”, maar kwart over 6.**

Wat valt je op als het **5 minuten later** is dan **“10 over half”**? Dan is het geen **“15 (minuten) voor”**, maar **“kwart voor”**: dus **“10 over half 7” (5 minuten later): geen 15 (minuten) voor 7, maar kwart voor 7.**


Voorbeelden:




De **grote wijzer** wijst naar de **1**.
De **kleine wijzer** wijst een stukje over de **6**. Dan is het **5 (minuten) over 6**.




De **grote wijzer** wijst naar de **2**.
De **kleine wijzer** wijst een stukje over de **3**. Dan is het **10 (minuten) over 3**.




De **grote wijzer** wijst naar de **3**.
De **kleine wijzer** wijst een stukje
over de **12**. Dan is het **kwart over**
12.




De **grote wijzer** wijst naar de **4**.
De **kleine wijzer** wijst een stukje
over de **3**. Dan is het **10** (minu-
ten) **voor half 4**.




De **grote wijzer** wijst naar de **5**.
De **kleine wijzer** wijst een stukje
over de **6**. Dan is het **5** (minuten)
voor half 7.



De **grote wijzer** wijst naar de **6**.
De **kleine wijzer** wijst tussen de
3 en de **4**. Dan is het **half 4**.




De **grote wijzer** wijst naar de **7**.
De **kleine wijzer** wijst tussen de
2 en de **3**. Dan is het **5** (minu-
ten) **over half 3**.




De **grote wijzer** wijst naar de **8**.
De **kleine wijzer** wijst bijna naar
de **1**. Dan is het **10** (minuten)
over half 1.




De **grote wijzer** wijst naar de **9**.
De **kleine wijzer** wijst bijna naar
de **2**. Dan is het **kwart voor 2**.



De **grote wijzer** wijst naar de **10**.
De **kleine wijzer** wijst bijna naar
de **6**. Dan is het **10 (minuten)**
voor 6.



De **grote wijzer** wijst naar de **11**.
De **kleine wijzer** wijst naar de **1**.
Dan is het **5 (minuten) voor 1**.



De **grote wijzer** wijst naar de **12**.
De **kleine wijzer** wijst naar de
8. Dan is het **8 uur**.

Opdracht 5:

Er zijn nog meer tijden. Elk streepje geeft een andere tijd aan. Om dan de juiste tijd te kunnen zeggen, kun je het beste de streepjes tellen. Je weet dat **elk streepje één minuut** is. Als je elk streepje over de 12 telt, is het steeds één minuut later. Dus... dat wordt streepjes tellen!

A. Tussen de 12 en de 3
Voorbeelden:



Waar wijst de **grote wijzer** naar?
Ik tel **één** streepje (= **één** minuut)
over de **12**. De **kleine wijzer** wijst
naar de **2**. Dan is het **1** (minuut)
nuut) **over 2**.



Waar wijst de **grote wijzer** naar?
Ik tel **6** streepjes (= **6** minuten)
over de **12**. De **kleine wijzer** wijst
naar de **12**. Dan is het **6** (minuten)
over 12.



Waar wijst de **grote wijzer** naar?
Ik tel **12** streepjes (= **12** minuten) **over** de **12**.
De **kleine wijzer** wijst naar de **5**.
Dan is het **12** (minuten) **over 5**.


B. Tussen de 3 en de 6
Voorbeelden



Waar wijst de **grote wijzer** naar?
Ik tel **14** streepjes (= **14** minuten)
voor de **6** (= **voor** de **half**). De **klei-**
ne wijzer wijst een stukje over de **4**.
Dan is het **14** (minuten) **voor half**
5.



Waar wijst de **grote wijzer** naar?
Ik tel **7** streepjes (= **7** minuten)
voor de **6** (= **voor** de **half**). De
kleine wijzer wijst tussen de **12**
en de **1**. Dan is het **7** (minuten)
voor half 1.




Waar wijst de **grote wijzer** naar?
Ik tel **4** streepjes (= **4** minuten) **voor** de **6** (= **voor** de **half**).
De **kleine wijzer** wijst tussen de **6** en de **7**.
Dan is het **4** (minuten) **voor half 7**.

C. Tussen de 6 en de 9


Voorbeelden:



Waar wijst de **grote wijzer** naar?
Ik tel **4** streepjes (= **4** minuten)
over de **6** (= **over** de **half**). De
kleine wijzer wijst tussen de **2**
en de **3**. Dan is het **4** (minuten)
over half 3.




Waar wijst de **grote wijzer** naar?
Ik tel **8** streepjes (= **8** minuten)
over de **6** (= **over** de **half**). De
kleine wijzer wijst bijna naar de
1. Dan is het **8** (minuten) **over**
half 1.



Waar wijst de **grote wijzer** naar?
Ik tel **13** streepjes (= **13** minuten) **over** de **6** (= **over** de **half**).
De **kleine wijzer** wijst bijna naar de **1**.
Dan is het **13** (minuten) **over half 1**.


D. Tussen de 9 en de 12
Voorbeelden:



Waar wijst de **grote wijzer** naar?
Ik tel **12** streepjes (= **12** minuten)
voor de **12**. De **kleine wijzer** wijst
bijna naar de **2**. Dan is het **12**
(minuten) **voor 2**.



Waar wijst de **grote wijzer** naar?
Ik tel **9** streepjes (= **9** minuten)
voor de **12**. De **kleine wijzer**
wijst bijna naar de **3**. Dan is het
9 (minuten) **voor 3**.



Waar wijst de **grote wijzer** naar?
Ik tel **2** streepjes (= **2** minuten) **voor** de **12**.
De **kleine wijzer** wijst naar de **4**.
Dan is het **2** (minuten) **voor 4**.


Hele uren

a




.....

.....




.....

.....




.....

.....




.....

.....



.....

.....



.....

.....

Hele uren

b

4 uur



9 uur

10 uur



12 uur

1 uur



7 uur

5 uur



11 uur

2 uur



6 uur



3 uur



8 uur

Halve uren

a



Halve uren

(b)

half 4



half 9

half 2



half 12

half 6



half 1

half 5



half 10

half 3



half 11




half 7



half 8

Hele en halve uren

a




Hele en halve uren


b




half 4




5 uur



4 uur




half 7



half 12



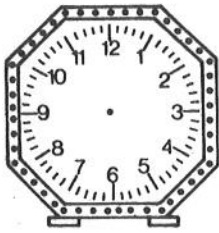
3 uur



9 uur




7 uur



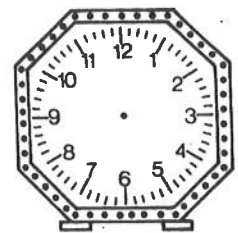
half 2



half 5



1 uur



12 uur




half 9




2 uur




6 uur




half 11




8 uur




half 1



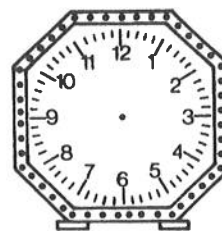
half 3



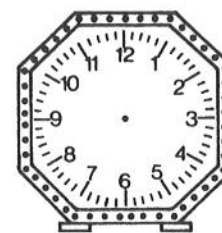
10 uur



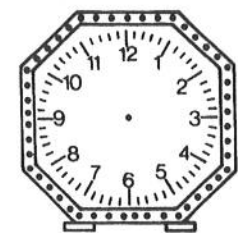
11 uur



half 6







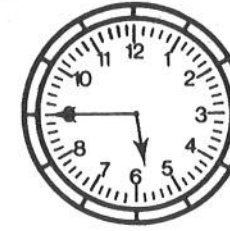

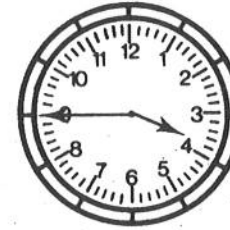

half 8



half 10

Kwartieren vóór

a



Kwartieren vóór

(b)

kwart voor 3



kwart voor 10



kwart voor 5



kwart voor 1



kwart voor 7



kwart voor 2



kwart voor 11



kwart voor 8



kwart voor 6



kwart voor 9



kwart voor 4





kwart voor 12



Kwartieren over

a



Kwartieren over

(b)

kwart over 7



kwart over 9

kwart over 3



kwart over 12

kwart over 2



kwart over 4

kwart over 1



kwart over 10

kwart over 6



kwart over 8


kwart over 11



kwart over 5

Kwartieren vóór en over

a



Kwartieren vóór en over

b




kwart voor 7



kwart voor 9



kwart over 10



kwart voor 1



kwart over 9



kwart over 3



kwart over 7



kwart voor 8




kwart voor 2




kwart over 4



kwart voor 5



kwart over 12




kwart over 2



kwart over 8



kwart voor 4



kwart voor 10



kwart voor 3



kwart voor 11



kwart voor 6



kwart over 6




kwart over 11



kwart over 1






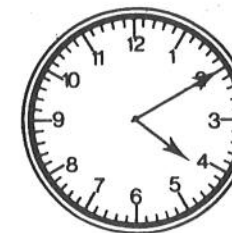
kwart voor 12



kwart over 5

10 min. voor en over de hele uren

a

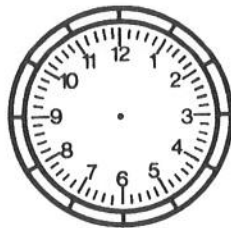


10 min voor en over de hele uren

b



10 voor 5



10 over 12



10 over 9




10 voor 7



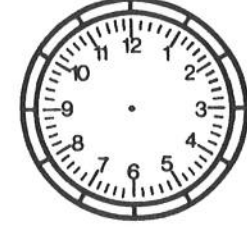
10 voor 1




10 over 8



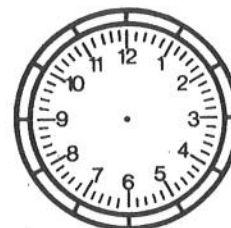
10 over 2



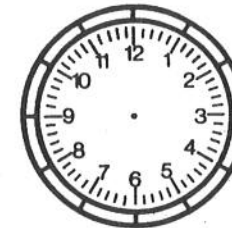
10 voor 11



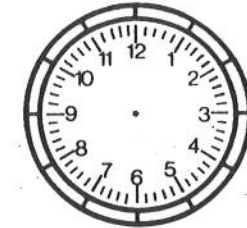
10 voor 10



10 over 5



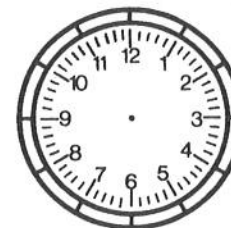
10 voor 9




10 over 6




10 voor 12



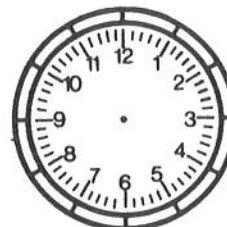
10 over 7



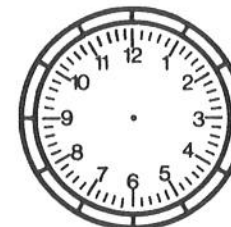
10 over 1




10 voor 2




10 voor 4



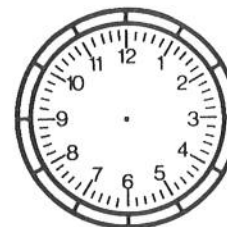
10 voor 8



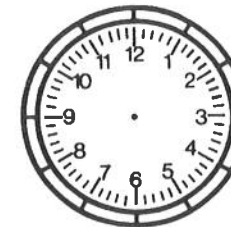
10 over 11




10 voor 6




10 over 3



10 voor 3




10 over 4



10 over 10

10 min. voor en over de halve uren

a



10 min. voor en over de halve uren

b



10 voor half 7



10 over half 2



10 voor half 10



10 voor half 1



10 over half 9



10 over half 12



10 voor half 3



10 voor half 4



10 over half 6



10 voor half 5



10 over half 10



10 voor half 9



10 over half 8



10 voor half 8



10 voor half 11



10 over half 7



10 voor half 12



10 over half 11



10 voor half 6



10 over half 1



10 over half 3



10 over half 4




10 over half 5



10 voor half 2


10 min. voor en over de hele en halve uren

a



10 min. voor en over de hele en halve uren


b



10 over 2




10 voor 9




10 voor half 7



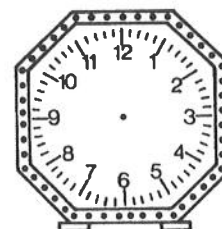
10 over half 8



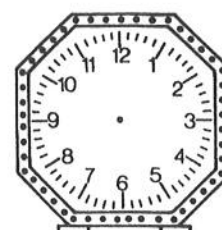
10 voor half 10




10 voor 6



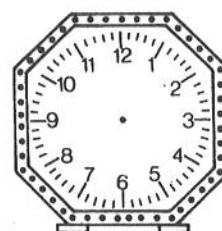
10 over half 1



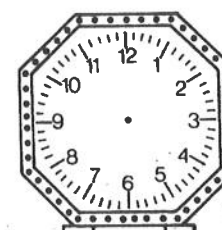
10 over 3



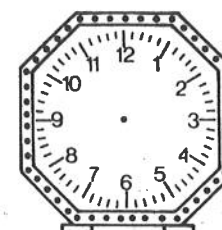
10 voor 12



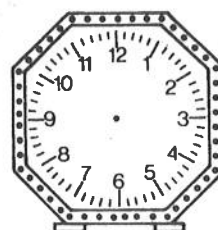
10 over half 11



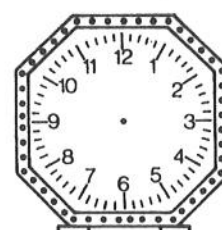
10 voor 10



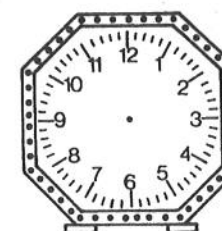
10 over half 2




10 voor half 4




10 over 4



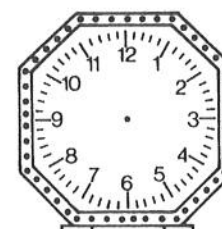
10 voor 5



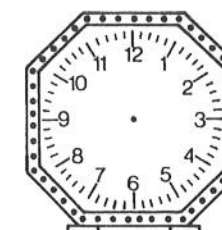
10 over half 9



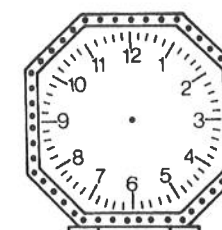
10 voor 2



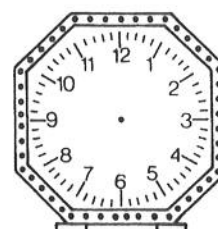
10 voor half 1




10 over 6



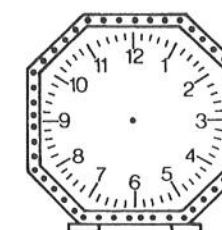
10 over 5



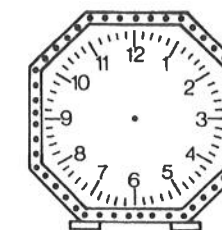
10 over half 12



10 voor 4



10 over 9



10 voor half 8

5 min. voor en over de hele uren

a




5 min. voor en over de hele uren

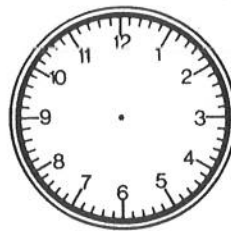
b




5 over 2




5 voor 10




5 voor 3



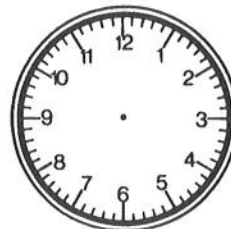
5 over 12




5 over 7



5 voor 5




5 voor 9



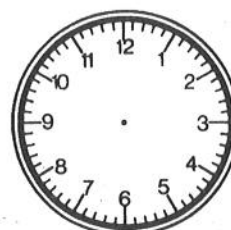
5 over 11




5 over 10



5 voor 12




5 voor 2



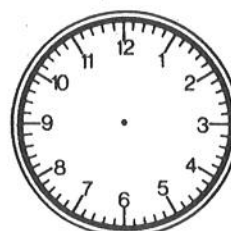
5 over 3



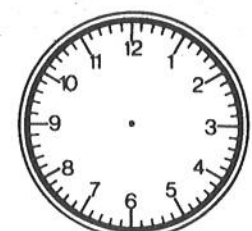
5 over 5



5 voor 6



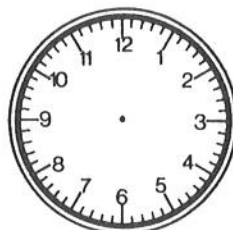
5 over 8




5 voor 4



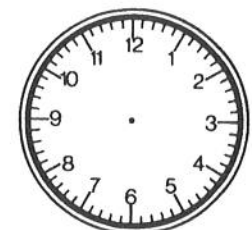
5 over 4




5 voor 8




5 voor 1



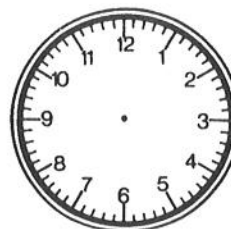
5 voor 11



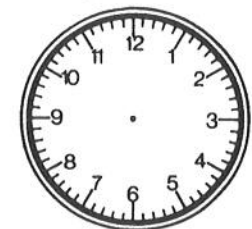
5 voor 1



5 over 6




5 voor 7



5 over 9

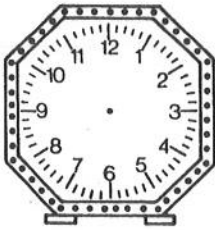
5 min. voor en over de halve uren

a




5 min. voor en over de halve uren


b




5 voor half 4




5 over half 11



5 over half 7




5 voor half 3




5 voor half 8



5 voor half 7



5 over half 10



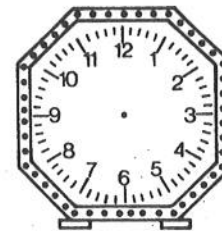
5 over half 12



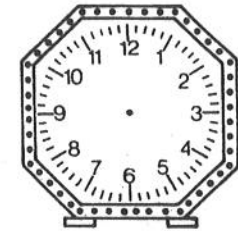
5 voor half 6



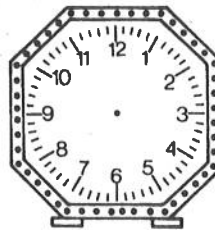
5 over half 2




5 over half 3




5 voor half 12




5 voor half 10



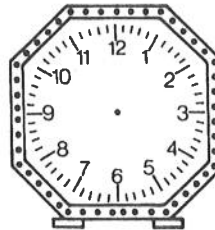
5 over half 8



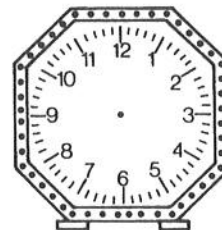
5 voor half 5




5 over half 5




5 over half 6



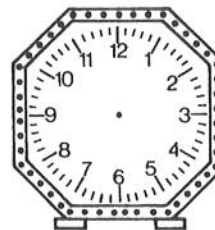
5 voor half 11



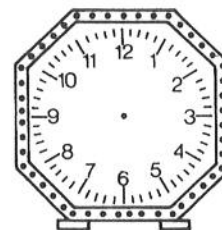
5 over half 4




5 voor half 1




5 over half 1



5 voor half 2





5 voor half 9



5 over half 9

5 min. voor en over de hele en halve uren

a



5 min. voor en over de hele en halve uren

b



5 voor half 4



5 voor 7



5 over half 9



5 over 2



5 over 5



5 voor half 11



5 over 8



5 voor half 1



5 over 1



5 voor half 2



5 over half 5



5 over 6



5 voor half 12



5 over 9



5 over half 3



5 over 11



5 voor 10



5 over half 3



5 over 4



5 over half 7



5 voor half 5



5 over 3





5 voor 8



5 voor half 2

Tussen 7 uur en half 8

a



Tussen 7 uur en half 8

(b)



6 over 7



6 voor half 8



9 voor half 8



14 over 7



2 over 7



1 voor half 8



4 voor half 8



7 over 7



7 voor half 8



13 voor half 8



4 over 7



13 over 7



1 over 7



14 voor half 8



2 voor half 8



9 over 7



3 over 7



3 voor half 8



8 over 7



11 over 7



8 voor half 8



12 over 7






12 voor half 8



11 voor half 8

Tussen half 11 en 11 uur

a



Tussen half 11 en 11 uur

b



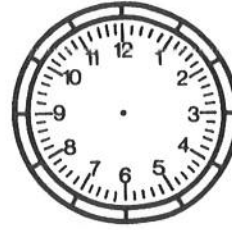
3 voor 11



3 over half 11



7 over half 11




9 voor 11




11 voor 11




14 over half 11



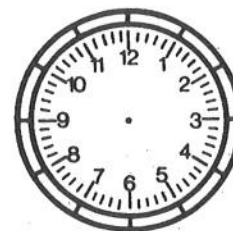
1 voor 11



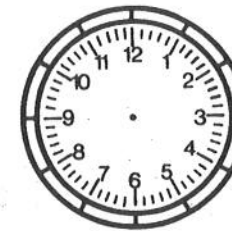
2 over half 11



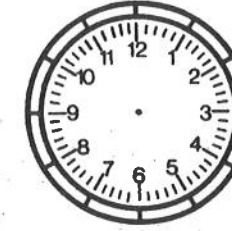
6 voor 11



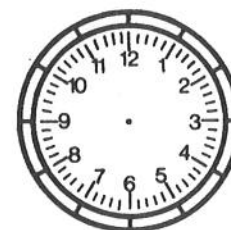
12 voor 11



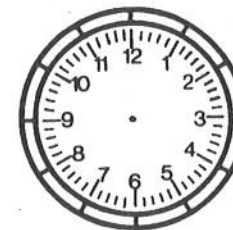
8 over half 11



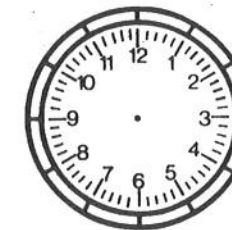
12 over half 11



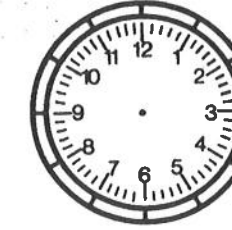
9 over half 11



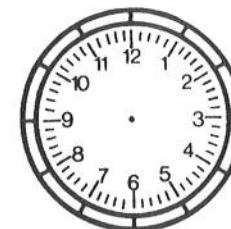
8 voor 11



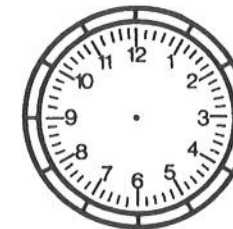
1 over half 11




4 over half 11




4 voor 11



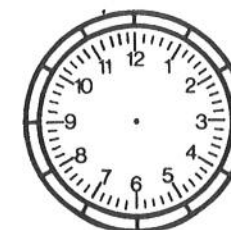
7 voor 11




11 over half 11




13 over half 11




14 voor 11



13 voor 11



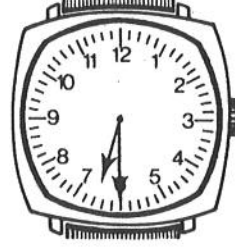
6 over half 11



2 voor 11

Klokkijken Alles doorelkaar

a



Klokkijken Alles doorlekaar

b



5 over 10



3 voor half 7



kwart voor 8



11 uur



half 3



10 voor half 4




5 over half 9




10 voor 12




14 over 9



kwart over 6



9 uur



5 voor half 10



11 voor 11



10 over 10



5 voor 5




7 voor half 7



kwart voor 1



half 12



10 over 6



5 over 8



7 uur



kwart over 3







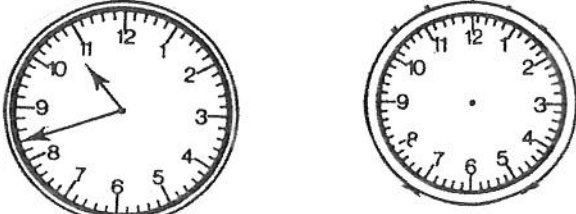
5 over half 11



12 uur

KLOKKIJKEN ANALOOG

WAT MOET JE ERVAN WETEN EN ERMEE KUNNEN?

Wat moet je ervan weten en ermee kunnen?	Een voorbeeld (als dat nodig is).
1. Je kent de wijzers van de klok.	
2. Je weet welke getallen er op de klok staan (of zouden moeten staan) en waar die op de klok staan (of zouden moeten staan).	
3. Je weet wat de kleine en de grote wijzer aangeven.	
4. Je weet waar de grote wijzer en de kleine wijzer naar wijzen bij hele uren, halve uren en bij kwart over (het hele uur) en kwart voor (het hele uur).	<p style="text-align: center;">Hoe laat is het?</p> 
5. Je weet waar de grote wijzer en de kleine wijzer naar wijzen bij 5 en 10 minuten over het hele uur en bij 5 en 10 minuten voor het hele uur.	<p style="text-align: center;">Hoe laat is het?</p> 
6. Je weet waar de grote wijzer en de kleine wijzer naar wijzen bij 5 en 10 minuten voor en over het halve uur.	<p style="text-align: center;">Hoe laat is het?</p> 
7. Je weet hoeveel minuten er in een uur zitten.	In een uur zitten _____ minuten.
8. Je weet wat elk streepje op de klok aangeeft.	
9. Je weet welke tijd het is als de grote wijzer naar een streepje wijst.	
10. Je kent alle tijden op de klok en je kunt alle tijden op de klok tekenen.	
	<p>Hoe laat is het? Teken 14 over 9</p>